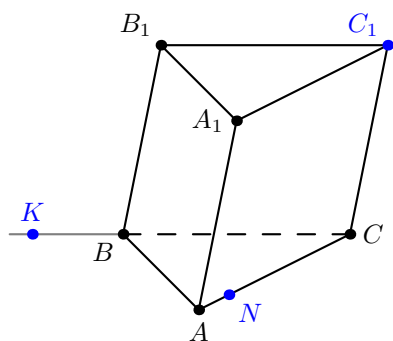


Самостоятельная работа: построение сечений многогранников

Фамилия Имя: _____

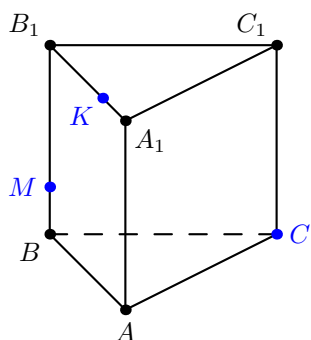
Дата: _____

Задание №1. Постройте сечение треугольной призмы $ABCA_1B_1C_1$ плоскостью C_1NK .



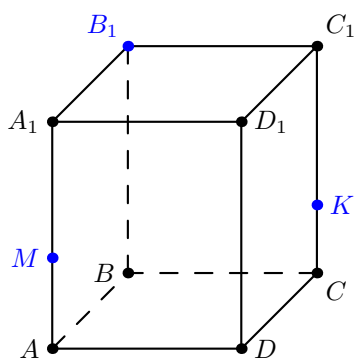
Решение																			

Задание №2. Постройте сечение треугольной призмы $ABCA_1B_1C_1$ плоскостью CMK .



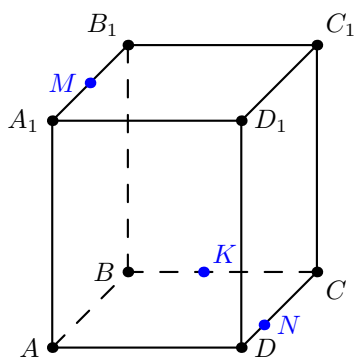
Решение																			

Задание №3. Постройте сечение куба $ABCD A_1 B_1 C_1 D_1$ плоскостью B_1MK .



Решение																			

Задание №4. Постройте сечение куба $ABCD A_1 B_1 C_1 D_1$ плоскостью MNK .



Решение																			